



UNIVERSO
FIMP**AZ**



MEDIDAS
DE
LONGITUD

!!!HOLA !!!

Soy Logic y hoy
te quiero compartir
unas plantillas
para que
practiquemos las
medidas de longitud

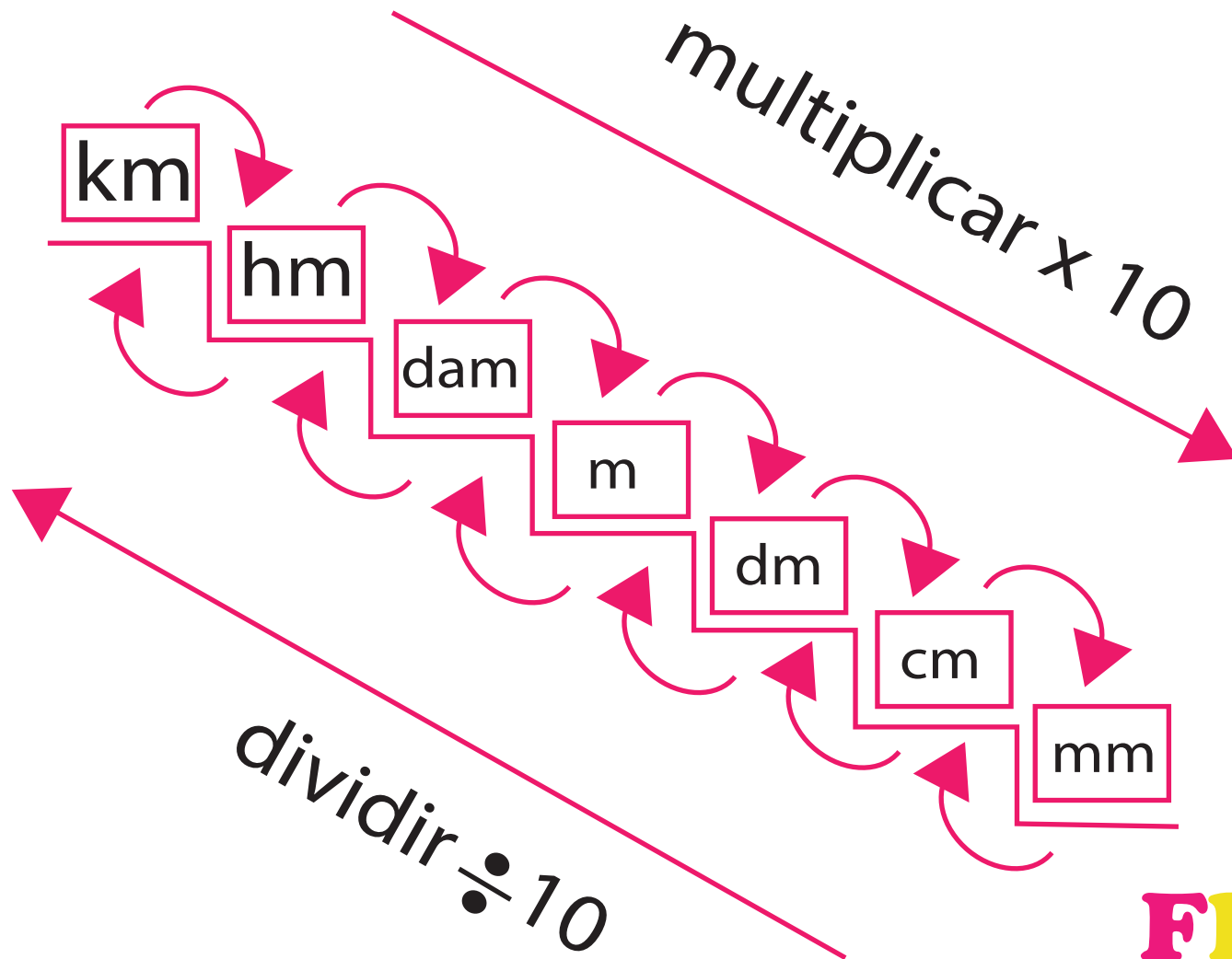


FIMPAAZ

Nombre _____

Fecha _____

Medidas de longitud


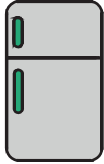






Nombre _____



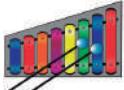
Fecha _____




¿Cuál es más largo?

Marca con una x el objeto que pesa mas en cada grupo

		
3 metros	120cm	15cm
<input type="checkbox"/>	<input type="checkbox"/>	<input type="checkbox"/>

		
5dm	5cm	5mm
<input type="checkbox"/>	<input type="checkbox"/>	<input type="checkbox"/>

		
250mm	25 dam	25cm
<input type="checkbox"/>	<input type="checkbox"/>	<input type="checkbox"/>




		
14 km	40dam	4 hm
<input type="checkbox"/>	<input type="checkbox"/>	<input type="checkbox"/>




Nombre _____




Fecha _____




¿Cuál es más largo?

Marca con una x el objeto que pesa mas en cada grupo

		
2500 mm	25m	250cm
<input type="checkbox"/>	<input type="checkbox"/>	<input type="checkbox"/>

		
5km	500hm	50000dam
<input type="checkbox"/>	<input type="checkbox"/>	<input type="checkbox"/>

		
10dm	1 dam	250 mm
<input type="checkbox"/>	<input type="checkbox"/>	<input type="checkbox"/>




		
20000 mm	20 m	200 cm
<input type="checkbox"/>	<input type="checkbox"/>	<input type="checkbox"/>




Nombre _____


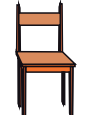

Fecha _____




¿Cuál es más largo?

Marca con una x el objeto que pesa mas en cada grupo

		
2500 mm	25 cm	0.15m
<input type="checkbox"/>	<input type="checkbox"/>	<input type="checkbox"/>

		
9 m	0.09 hm	0.0009dam
<input type="checkbox"/>	<input type="checkbox"/>	<input type="checkbox"/>

		
30 cm	0.25 dam	25 m
<input type="checkbox"/>	<input type="checkbox"/>	<input type="checkbox"/>

		
8 hm	800 dam	300 cm
<input type="checkbox"/>	<input type="checkbox"/>	<input type="checkbox"/>

Nombre _____

Fecha _____

¿Cuál es la mayor distancia?



15 km



1500 hm



150000 dam



FIMPAZ

Nombre _____

Fecha _____

¿Cuál es la mayor distancia?



5000 mm



500 m



5 dam



Nombre _____

Fecha _____

¿Cuál es la mayor distancia?



42 hm



42000 m



42000000 mm



Nombre _____

Fecha _____

Coloca los signos mayor que, menor que o igual según corresponda:

500 cm 50 hm

2000mm 20cm

300 cm 3m

5 km 5000 m

4 hm 400mm

300dam 30km

FIMPAZ

Nombre _____

Fecha _____

Coloca los signos mayor que, menor que o igual según corresponda:

8 km 800mm

2000 m 20 km

9000cm 900 mm

7 hm 700 m

85 hm 8500 m

5 km 5000dam

FIMPAZ

Nombre _____

Fecha _____

Coloca los signos mayor que, menor que o igual según corresponda:

700m 7 km

60000 m 600 km

14000cm 14 hm

90000 mm 900 m

20 hm 2000 m

800 dam 8000 cm

FIMPAZ